

# ANNUAL EXAMINATION - 2019

MATHEMATICS  
CLASS - VIII

MAX.MARKS : 80

Time : 2 hours 30 minutes

## INSTRUCTIONS:-

- All questions are compulsory.
- Question paper comprises four sections.  
Section-A [1 mark each]  
Section-B [2 marks each]  
Section-C [3 marks each]  
Section-D [4 marks each]
- Internal choices are provided.
- Graph paper has been provided for question no.31.

[1 mark each]

### SECTION-A

- Find the product:  $2x(3x + 5xy)$
- How are pyramids and cones alike?
- What is the multiplicative inverse of  $5^{-3}$ ?
- Write 0.000000564 in standard form.
- Factorize:  $6p-12q$
- Divide  $28p^4$  by  $56p$ .
- Write the coordinates of the origin.
- Find A and B in-  
$$\begin{array}{r} 3 \ A \\ + 2 \ 5 \\ \hline B \ 2 \end{array}$$
- Evaluate:  $(-4)^{-2}$ .
- Expand  $1025.63$  using exponents.

### SECTION-B

- Find the multiplicative inverse of  $\frac{-5}{8} \times \frac{-3}{7}$ .
- Find two rational numbers between  $\frac{1}{4}$  and  $\frac{1}{2}$ .
- Add  $p(p-q)$ ,  $q(q-r)$ , and  $r(r-p)$ .
- Find  $(6a^2 - 5b)^2$  using identities.
- Find the side of a cube whose surface area is  $600\text{cm}^2$ .

[2 marks each]

16. Find the value of  $\left[\left(\frac{-2}{3}\right)^{-2}\right]^2$

17. Factorize:  $4p^2 - 9q^2$

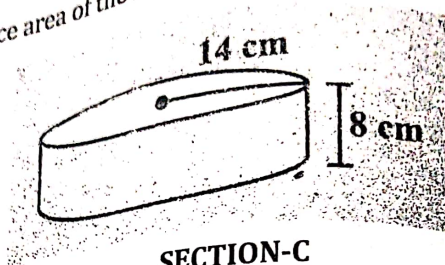
18. Factorize:  $15xy - 6x + 5y - 2$

19. Using identities evaluate  $99^2$

OR

$297 \times 303$

20. Find the total surface area of the following cylinder.



SECTION-C

21. Subtract  $3xy + 5yz - 7zx$  from  $5xy - 2yz - 2zx + 10xyz$ .

22. Show that

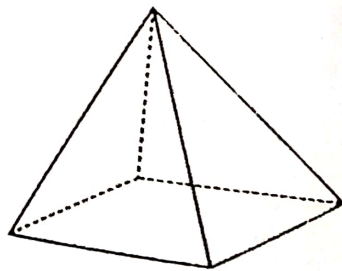
$$\left(\frac{4}{3}m - \frac{3}{4}n\right)^2 + 2mn = \frac{16}{9}m^2 + \frac{9}{16}n^2$$

OR

$$(4pq + 3q)^2 - (4pq - 3q)^2 = 48pq^2$$

[3 marks each]

23. Prove Euler's formula for



24. The area of trapezium is  $34\text{cm}^2$  and the length of one of the parallel sides is 10cm and the height is 4cm. Find the length of the other parallel side.

OR

A floor consists of 3000 tiles which are rhombus shaped and each of its diagonals are 45cm and 30cm in length. Find the total cost of polishing the floor, if the cost per  $\text{m}^2$  is Rs 4.

25. A cuboid is of dimensions 60cm x 54cm x 30cm. How many small cubes with side 6cm can be placed in the given cuboid?

26. Find the value of m for which  $5^m \div 5^{-3} = 5^5$

27. In a stack there are 5 books each of thickness 20mm and 5 paper sheets each of thickness 0.016mm. What is the total thickness of the stack?
28. In a model of a ship, the mast is 9cm high, while the mast of the actual ship is 12m high. If the length of the ship is 28m, how long is the model ship?
29. If a box of sweets is divided among 24 children, they will get 5 sweets each. How many would each get if the number of children is reduced by 4?
30. Factorize  $a^4 - (a-b)^4$

OR

Factorize and divide  $12xy(9x^2 - 16y^2) \div 4xy(3x + 4y)$

[4 marks each]

SECTION-D

31. Draw the graph for the following table of values with suitable scales on the axes  
Distance travelled by a car

Time (in hours)	6 a.m.	7 a.m.	8 a.m.	9 a.m.
Distances (in km)	40	80	120	160

- a) How much distance did the car cover during the period of 7:30 a.m. to 8 a.m.?
32. If 15 workers can build a wall in 48 hours, how many workers will be required to do the same work in 30 hours?

OR

If the weight of 12 sheets of thick paper is 40 grams, how many sheets of the same paper would weigh  $2\frac{1}{2}$  kilograms?

33. Simplify -

$$\frac{3^{-5} \times 10^{-5} \times 125}{5^{-7} \times 6^{-5}}$$

34. If each edge of a cube is doubled
- a) How many times will its surface area increase?
- b) How many times will its volume increase?

OR

A rectangular piece of paper 11cm x 4cm is folded without overlapping to make a cylinder of height 4cm. Find the volume of the cylinder.

35. The lateral surface area of a hollow cylinder is  $4224\text{cm}^2$ . It is cut along its height and formed a rectangular sheet of width 33cm. Find the perimeter of the rectangular sheet.

OR

A road roller takes 750 complete revolutions to move once over to level a road. Find the area of the road if the diameter of the road roller is 84cm and length is 1m.

PROMOTION EXAMINATION 2018-19

SANSKRIT  
CLASS – VIII

M.M-80

Time:-2:3 Hrs

2

- प्र.1 प्रकृति और प्रत्ययों को जोड़कर पदों को लिखे :-  
क चल् + अनीयर्  
ख पा + तव्यत्  
ग भ् + क्त्वा  
घ दा + तुमुन्

2

- प्र.2 नीचे लिखे वाक्यों में प्रत्ययों को जोड़कर या अलग कर लिखिए -  
क त्वं कुत्र ..... वाञ्छसि ? (गम् + तुमुन्)  
ख मोहनः गृहं ..... + ..... पठति (गत्वा)  
ग बालः ..... विद्यालयं गच्छति । (पद् + तुमुन्)  
घ मया पुस्तकं ..... । (पद् + तव्यत्)

2

- प्र.3 सन्धि कर पदों को लिखिए ।  
क पुरुष + उत्तमः  
ख पौ + अकः  
ग विद्या + अर्थी  
घ मम् + एवम्

2

- प्र.4 उचित विभक्ति पद से रिक्तस्थानों को पूर्ण करें।  
क संतोष एव ..... परं निधानम् । (पुरुष)  
ख अन्यानि ..... सततं क्षीयन्ते । (भूषण)  
ग आर्जवं हि ..... न नीतिः । (कुटिल)  
घ परोपकारः ..... भवति । (पुण्य)

2

- प्र.5 नीचे लिखे शब्दों का पद परिचय दीजिए -  
घातु प्रत्यय  
क कर्तव्यः ..... + .....  
ख उक्त्वा ..... + .....

2

- प्र.6 वाक्यों को निर्देशानुसार परिवर्तित कर लिखें ।  
(पूर्ण वाक्य में उत्तर लिखें)  
क अहं वनस्य राजा अस्मि । (लङ्.लकार)  
ख सिंह सर्वान् पशून् अमारयत् । (लट्.लकार)

2

- प्र.7 रेखाङ्कित पदों को आधार मानकर प्रश्न निर्माण कीजिए -  
(पूर्ण वाक्य में उत्तर लिखें)  
क कपोतराजः कपोतान् अवदत् ।  
ख सर्वे पक्षिणः जालमादाय उत्पतिताः ।

प्र.8 "लङ्" लकार के स्थान पर "लट्" लकार में "स्म" जोड़कर लिखिए।  
 (पूर्ण वाक्य में उत्तर लिखिए)  
 क तिरस्कारं श्रुत्वा चित्रग्रीवः अवदत् ।  
 ख सः प्रच्छन्नो भूत्वा अतिष्ठत् ।  
 ग मूषकराजः बन्धनाति अकर्तयत् ।

प्र.9 'क्त' 'क्तवतु' प्रत्यय के स्थान पर लङ् लकार का प्रयोग कीजिए ।  
 (पूर्ण वाक्य में उत्तर लिखिए)  
 क भ्रगालः वनं गतः ।  
 ख व्याधेन घोराकृतिः शूकरो दृष्टः ।  
 ग तेन पुस्तकं पठितम् ।

प्र.10 नीचे लिखे वाक्यों में उपपद विभक्ति का प्रयोग करते हुए खाली स्थान भरें ।  
 क ..... विना जीवनं सफलं न भवति । (दुःख)  
 ख रजकः ..... सह स्वपिति । (परिवार)  
 ग त्वं ..... साकम् आपणं गच्छसि । (पितृ)

प्र.11 विपरीत अर्थ देने वाले शब्द लिखिए ।  
 क क्षीयन्ते  
 ख पुण्याय  
 ग धर्मः

प्र.12 विशेष्य के साथ उचित विशेषण को मिलाकर लिखिए ।  
 क त्रीणि विश्वे  
 ख उज्जयिनीम् काव्यानि  
 ग सम्पूर्णं नगरीम्

प्र.13 नीचे लिखे पदों के मूलधातु तथा लकार लिखें ।

	मूल धातु	लकार
क गच्छतु	.....	.....
ख चरन्ति	.....	.....
ग पिबेत्	.....	.....

प्र.14 धातु रूप लिखिए -  
 क खाद् - लङ् लकार - मध्यम पुरुष  
 ख पच् - लोट् लकार - अन्य पुरुष

प्र.15 शब्द रूप लिखिए -  
 क नदी - सप्तमी  
 ख पितृ - तृतीया

प्र.16 नीचे लिखी संख्याओं को संस्कृत में लिखें -:  
 क 60 ख 82  
 ग 78 घ 94

- प्र.17 नीचे लिखे शब्दों के अर्थ लिखें :-  
 क विख्यातः  
 ख भृत्यः  
 ग विचार्य  
 घ स्तुवन्तु

6

- प्र.18 पूर्ण वाक्य में उत्तर दीजिए -  
 क वट वृक्षस्य समीपे व्याधः किमकरोत् ?  
 ख भासुरकः किं करोति स्म ?  
 ग कः कर्तव्यः कः च न कर्तव्यः ?

4

- प्र.19 (1) निर्देशानुसार घातु रूप और शब्द रूप लिखिए -
- |   |        |   |           |   |             |   |         |
|---|--------|---|-----------|---|-------------|---|---------|
| क | कथ्    | - | विधिलिङ्  | - | उत्तम पुरुष | - | एकवचन   |
| ख | क्रीड् | - | लोटलकार   | - | मध्यम पुरुष | - | बहुवचन  |
| ग | दा     | - | लृट् लकार | - | उत्तम पुरुष | - | बहुवचन  |
| घ | नम्    | - | लट् लकार  | - | अन्य पुरुष  | - | द्विवचन |
- (2)
- |   |      |   |        |   |         |
|---|------|---|--------|---|---------|
| क | मति  | - | षष्ठी  | - | द्विवचन |
| ख | साधु | - | तृतीया | - | बहुवचन  |
| ग | मातृ | - | पंचमी  | - | एकवचन   |
| घ | नदी  | - | सप्तमी | - | द्विवचन |

4

- प्र.20 नीचे लिखे अनुच्छेद का अनुवाद हिन्दी में लिखिए -

4

कश्मिश्चित् स्थाने कर्पूरपटको नाम रजकः वसति स्म। एकदा सः रात्रौ परिवारेण सह स्वपिति स्म। तदनन्तरं तद्गृहे चौरकार्यार्थम् एकः चौरः प्रविष्टः। तस्य प्राङ्गणे गर्दभः बद्धः आसीत् कुक्कुरः च उपविष्टः आसीत्। गर्दभः श्वानमकथयत् - "मित्र! त्वम् उच्चैः गर्जयित्वा स्वामिनं कथं न जागरयसि ? भवतः तु अयं कर्तव्यः। "श्वानः अवदत्- "कर्तव्यस्य चर्चा त्वया न कर्तव्य। किं त्वं न जानासि अहमेव अहर्निशं गृहरक्षां करोमि। तथापि अयं चिरान्निवृत्तो ममोपयोगं न जानाति। सः मम आहारदाने ध्यानं न ददाति। दुःखदर्शनं विना स्वामी सेवकस्य उपरि ध्यानं न यच्छति। "

गर्दभः अकथयत् - "शृणु रे असभ्य! याचते कार्यकाले यः स किं भृत्यः स किं सुहृत्। "कुक्कुरः अवदत्- "भृत्यान् सम्भाषयेद् यस्तु कार्यकाले स किं प्रभुः। ततः गर्दभः सक्रोधमाह- "अरे दृष्टबुद्धे! धिक् त्वां पापिनं यद् विपत्तौ स्वामिकार्यस्य उपेक्षां करोषि।

- प्र.21 नीचे लिखे श्लोक का हिन्दी में अनुवाद लिखिए -

4

निन्दन्तु नीतिनिपुणाः यदि वा स्तुवन्तु,  
 लक्ष्मीः समाविशतु गच्छतु वा यथेष्टम्।  
 अद्यैव वा मरणमस्तु युगान्तरे वा,  
 न्याय्यात्पथः प्रविचलन्ति पदं न धीराः॥

- प्र.22 नीचे लिखे प्रश्नों के उत्तर एक पद में दीजिए -

5

- क किं कुटिलेषु न नीतिः ?  
 ख कः चीत्कारमकरोत् ?  
 ग जालं कः प्रसरितवान् ?  
 घ व्याधस्य नाम किमासीत् ?  
 ड विद्या कथं वर्धते ?

प्र.23 नीचे लिखे गद्यांश को पढ़कर प्रश्नों के उत्तर लिखिए -  
अस्याकं विद्यालयः एकः आदर्शः विद्यालयः अस्ति। अयं विद्यालयः जबलपुर नगरे स्थितः अस्ति।  
अस्याकं विद्यालयः एकः स्थिता अस्ति । अस्य प्रवेश-द्वारम् अतीव भव्यं विशालं च वर्तते।  
अस्य समुखे महाशीरवाटिका अस्ति। अस्या विशालं च उद्यानम् अस्ति। अस्य विद्यालयस्य मुख्यं भवनं विशालं  
मुख्यभवनस्य च समुखे एकं रंगीयं प्रधानाचार्यस्य कक्षः अस्ति। अत्र कार्यालयः, पुस्तकालयः,  
मनोहरं च दृश्यते। मुख्यभवनस्य मुख्यभवनस्य प्रयोगशालाः शोभन्ते।  
अस्यापकक्षः अपि सन्ति। अस्य पूर्वभागो विद्यालयस्य प्रयोगशालाः शोभन्ते।

एक पद में उत्तर दीजिए -  
क अयं विद्यालयः कुत्र स्थितः ?  
ख मुख्यभवनस्य मध्ये कस्य कक्षः ?

पूर्ण वाक्य में उत्तर दीजिए -  
क विद्यालयस्य पूर्वभागो कोः शोभन्ते ?

निर्देशानुसार उत्तर दीजिए -  
क "विद्यालयं" शब्द का सन्धि विच्छेद करें -  
ख "आदर्श विद्यालय" पद में विशेषण पद क्या है ?

प्र.24 हिन्दी में अनुवाद कीजिए -  
क महाजनो येन गतः स पन्थाः।  
ख हितं मनोहरि च दुर्लभं वयः।  
ग शरीरमाद्यं खलु धर्मसाधनम्।  
घ मितं च सारं च वयो द्वि वारिमिता।

ANNUAL PROMOTION EXAMINATION—2019

CLASS — VIII

SOCIAL SCIENCE

Max.Marks-80

Time:-2.30 Hrs.

(15 M)

(I) Give very short answers:

1. In which princely state did Maharaja Sayajirao set up a university?
2. Who said this, 'Sati is an inhuman custom and must be abolished'?
3. Which two revolutions popularized the ideas of freedom and equality?
4. Who was responsible for the Jallianwala Bagh Massacre?
5. Who was the chairman of the Drafting Committee of the Indian Constitution?
6. Who is the head of the majority party?
7. Where is the Supreme Court of India located?
8. Who files the chargesheet?
9. The people of which Varana worked as merchants and traders?
10. Which industry is managed both by the government and the private companies?
11. Which term is associated with plantation agriculture?
12. What is the processing of raw-materials into usable finished products called?
13. Which state of India has more females than males?
14. Which natural hazard develops when a low pressure area is surrounded by high pressure?
15. Name the instrument which measures an earthquake?

(II) Give short answers: -

1. How was the society in eighteenth century India?
2. Why did the British introduce modern education in India?
3. What do you know about the early life of Gandhiji?

(30 M)



Q.No- V

Name.....

Class.....

Roll No.....



Time : 2½ Hrs.

**I. ANSWER IN ONE WORD**

1MX10=10

1. Metals react with acids to produce.....
2. The term for component present in the cytoplasm \_\_\_\_\_.
3. The force applied by an archer to stretch the bow is an example of \_\_\_\_\_ force.
4. Friction depends on \_\_\_\_\_ of surfaces.
5. The unit of frequency is \_\_\_\_\_.
6. The full form of L.E.D is \_\_\_\_\_.
7. When a glass is rubbed with a piece of silk cloth, the glass rod acquires a \_\_\_\_\_ charge.
8. Night birds have \_\_\_\_\_ cones than rods in their eyes.
9. The planet which is farthest from the sun \_\_\_\_\_.
10. The rays of the sun which are used to purify water \_\_\_\_\_.

**II. ANSWER THE FOLLOWING**

2MX10 =20

1. Where are chromosomes found in a cell? State their function.
2. Give any two differences between metals and non-metals.
3. Give two examples of situations in which applied force causes a change in the shape of an object.  
Explain why sliding friction is less than static friction.  
Define the terms amplitude and frequency.  
What is electroplating? Name two objects around you that are electroplated.  
Suggest two measures to protect yourself from lightning.  
Do all the stars in the sky move? Explain.  
State the two laws of reflection.  
Write two ways by which water gets contaminated.

### III. ANSWER THE FOLLOWING

ANSWER THE FOLLOWING differences between regular and diffused reflection with the help of a diagram.

1. Write any three differences between regular and diffused reflection with the help of a diagram.
2. Explain the differences between regular and diffused reflection with the help of a diagram.
3. Give any three characteristics of an image formed by a plane mirror.
4. Give any three characteristics of an image formed by a convex lens.
5. Give three ways by which acid rain effects us.
6. Give three ways by which acid rain effects us.
7. Give three ways by which acid rain effects us.
8. Give three ways by which acid rain effects us.
9. Give three ways by which acid rain effects us.
10. Give three ways by which acid rain effects us.

OR

Write a short note on global warming.

5MX4=20

### IV. ANSWER THE FOLLOWING

1. Explain five ways by which you can take care of your eyes.
2. What is a lightning conductor? How does it protect buildings from lightning.
3. Draw a neat well diagram of the structure of the Human eye.
4. Name-
  - (a) Two objects other than planets which are members of the solar system.
  - (b) Two green house gases.
  - (c) Two kinds of cells in the retina.
  - (d) Two liquids which conduct electricity.
5. Two musical instruments which produce sound due to vibrating are column.

ANNUAL PROMOTION EXAMINATION — 2019

CLASS — VIII

ENGLISH

Time:-2.30 Hrs.

Max.Marks-80

General instructions: -

1. Attempt all the questions in order.
2. The question paper consists of four sections:

Section (A) - Reading Skills	(20 Marks)
Section (B) - Writing Skills	(20 Marks)
Section (C) - Grammar	(20 Marks)
Section (D) - Literature	(20 Marks)

**Read the following passage carefully.**

Q 1. Using ear phones while driving can be far more dangerous than driving under the influence of liquor. Latest research says drivers using these mobile phones as a means of faster day-to-day communications may be heading for an accident. The study has shattered, the common belief that drinking is the chief cause of the majority of road mishaps. Talking on mobile phones increases the risk to one's life compared to driving after being drunk. The findings of the study are based on the survey of several cases of road accidents.

In fact, a study of the records of drivers involved in 699 such mistakes showed that the risk of accident for those who talk on phone while driving was at least four times higher compared to those driving in a state of drunkenness.

The only advantage for those driving with cellular phone was that they could summon immediate help through these phones. The study which is relevant for the entire world is relevant for India as well. Here too these phones are being used increasingly for communication and business transactions.

III. Questions  
I On the basis of your reading of the above passage complete the following sentences. 5 M

- (a) Using ear phones while driving is very dangerous because \_\_\_\_\_
- (b) Accidents on the road can be caused because of \_\_\_\_\_
- (d) Latest research has made it clear that \_\_\_\_\_
- (d) With the help of a mobile phone one can \_\_\_\_\_
- (e) Cell phones are being used increasingly in India for \_\_\_\_\_

II Find a word from the above passage that means the same as 2M

- (a) risky
- (b) accident

Read the following passage carefully.

Q 2. The cinema is the cheapest source of entertainment today. Millions of people see movies and enjoy them. It is a good pastime in all the places - big or small. The cinema industry has made rapid progress after independence. In the beginning there were silent and black and white movies. Now we are dazzled by the colours in every movie.

Big posters are seen on the walls of cities and towns for advertisements. They also announce the coming movies in the city. There is always a rush before the booking windows. So the tickets are often sold in the black market or at a premium.

On the one hand the cinema is a source of entertainment. On the other it is also a source of knowledge and information. Films satisfy all the sections of people and their different tastes.

There are religious movies and historical movies. They recreate the past, the old culture and lifestyle. Social films spread awareness about social evils of dowry, casteism and communal feelings. Some films expose the corruption in high places among the policemen and the citizens.

I Answer the following questions briefly:

5M

- (a) Why is cinema so much popular?
- (b) How can you say that the cinema industry has made rapid progress after independence?
- (c) Why are tickets often sold in the black market?
- (d) Mention two advantages of cinema.
- (e) What is the main purpose of making social films?

II F  
(  
Q 3. F

Now a

(i)

(ii)

- II Find words from the above passage which mean the opposite to: 2M
- (a) costliest (b) slow (c) present (d) hide
- Q 3. Read the following poem carefully:-

**The World**

Great, wide, beautiful, wonderful World,  
With the wonderful water round you curled,  
And the wonderful grass upon your breast -  
World, you are beautifully drest.  
The wonderful air is over me,  
And the wonderful wind is shaking the tree,  
It walks on the water, and whirls the mills,  
And talks to itself on the tops of the hills.  
You friendly Earth, how far do you go,  
With the wheat-fields that nod and the rivers that flow,  
With cities and gardens, and cliffs, and isles,  
And people upon you for thousands of miles?  
Ah! you are so great, and I am so small,  
I tremble to think of you, World, at all;  
And yet, when I said my prayers to-day,  
A whisper inside me seemed to say,  
'You are more than the Earth, though you are such a dot:  
You can love and think, and the Earth cannot!' —*W.B.Rands*

Now answer the following questions by choosing correct options: (6M)

- (i) In the poem above 'beautifully drest' refers to
- (a) having gaudy dress  
(b) decorated with nature's beauty  
(c) wearing costly dresses  
(d) wearing cheap but beautiful dresses
- (ii) The poet calls the world 'beautifully drest' because
- (a) it looks beautiful  
(b) it has wonderful grass curled around it  
(c) it is covered with fine clothes

III.  
1.  
2.  
3  
4  
!

- (iii) (d) it is covered with green leaves  
(a) passersby (b) trees (c) clouds (d) itself
- (iv) The wind in the poem talks to  
(a) unfriendly (b) friendly (c) proud (d) kind
- (v) The phrase 'such a dot' means  
(a) so small (b) so fat (c) so big (d) so kind
- (vi) The word dress means  
(a) dressed (b) beauty (c) called (d) world

### Section – B

#### Writing Skills

(20 M)

Q.4 You are Ruchi/Arpit. You have lost your library card. Write a letter to the librarian to issue you a duplicate card. (5M)

Q.5 With the help of the given outlines develop a readable story (5M)

A shepherd boy looked after a flock of sheep \_\_\_\_ cried "wolf"? For fun \_\_\_\_ neighbours gathered in a large number \_\_\_\_ no wolf \_\_\_\_ the boy laughed at them \_\_\_\_ one day wolf really came \_\_\_\_ the boy cried for help \_\_\_\_ neighbours did not believe him \_\_\_\_ the wolf killed the boy and his sheep.

Q.6 Use the notes below to complete the Bio- sketch in 100 words (4M)

#### Wangari Maathai

Birth	- 1 April 1940 in Kenya
Occupation	- Environmentalists and political activist
1970	- founded Green Belt Movement Focus on planting of trees, Environmental conservation and women's rights
1973	- Director of Kenya Red Cross Society
2004	- First African woman to receive Noble Prize for her contribution to sustainable development, democracy and peace.

Q.7 Write an Essay on any of the following topic. (6M)

- a) The Republic Day  
b) Any Religious festival

Q.8 Co  
a)  
b)  
c)  
d)

Q.13 Fi  
a)  
b)  
c)  
d)

Q.9 In  
a)  
b)  
c)

Q.10 D  
a)

b)  
c)  
d)

Q.11 V

Q.12

Section C [Grammar]

20 M)

Q.8 Complete the similes with proper adjectives.

(1/2 x 4=2M)

- a) as \_\_\_\_\_ as stone
- b) as \_\_\_\_\_ as snow
- c) as \_\_\_\_\_ as a feather
- d) as \_\_\_\_\_ as a beetroot

Q.13 Fill in the blanks with correct prepositions.

(1x3=3M)

- a) Neela was suffering \_\_\_\_\_ the flu.
- b) I cannot choose \_\_\_\_\_ coffee and tea.
- c) The president congratulated me \_\_\_\_\_ my victory.

Q.9 Insert suitable conjunctions:

(1x3=3M)

- a) We have to wait \_\_\_\_\_ the bell rings.
- b) She got up early \_\_\_\_\_ she was tired.
- c) She would rather be a doctor \_\_\_\_\_ an engineer.

Q.10 Do as directed.

(1x4=4M)

- a) Have you booked the venue for the exhibition? (Change to passive voice)
- b) Were your paintings sold at a good price? (Change to active voice)
- c) Despite the popularity of the story Pinocchio, its author remain unknown to most people. (Correct the underlined verb with the correct one)
- d) These funds are raised by the National Carlo Colladi Foundation (correct the underlined verb with the correct one)

Q. 11 Use modals to make sentences with these groups of words. (1x4=4M)

- a) go home without finishing work
- b) tell the truth
- c) complain to the teacher
- d) manage things

Q. 12 Unjumble these words to form correct sentences.

(1x4=4M)

- a) been/to/never/Berlin/I/had/during/summer
- b) we/went/shopping/almost/day/for/sight seeing/or/every
- c) every/bakes/a/cake/sunday/Aunty/Nath
- d) Some times /my/ cousin/grandfather/plays/chess/Clare/with/her



Section D [Literature]

(20M)

Q.13 Word Meaning:

- a) mania
- b) alternative
- c) lament

- d) glimmerings
- e) knaves
- f) ecstasy

(1/2x6=3M)

Q.14 Read the extract and answer the following questions: (2 x 2=4M)

A. I received a message from Panditji asking me to sing 'Ae mere watan ke logon'. So I sang it:

(i) Name the singer of the above song.

(ii) On what occasion was this song sung.

B. "So that's sort of like basket ball on broom sticks with six hoops, isn't it?"

(i) Name the chapter from which these lines are taken?

(ii) Who said the above lines?

Q.15 Answer the following questions in short: any 5 (2x5=10M)

a) How does the author describe the saucer of milk that is given to the Cat?

b) Do you think Hemant Karkare was fearless? Give reasons.

c) In the poem 'Break, Break, Break', what is the thing that the poet will never return?

d) How do we know that the old man's health and appearance had been neglected for a long time?

e) Describe Mr. Lear's appearance in your own words?

f) What did Bambi benefit by all her life?

Q. 16 Answer the following

(3M)

Q.1 Why does Lady Macbeth say, "All the perfumes of Arabia will not sweeten this little hand"? What does this tell the doctor about her problem?

Q.1 How does Lata Mangeshkar prepare to sing in languages she is not familiar with?

Or

Time-2:

प्र.1 नी लि

परि

पहुँ

कि

नाम

का

स्वा

परि

जिस

चाहि

1.

वर्तम

(क)अ

(ग)प

2.

मन

(क)

(ग) वि

3.

परिश्रम

(क) अ

(ख) स

(ग) स्व

(घ) चा

1.

परिश्रम

(क) सा

(ग) सा

कौन ज

(क) जो

(ग) जो

Time-2:30 Hrs.

प्र.1 नीचे लिखे अपठित गद्यांश को पढ़कर दिए गए प्रश्नों के सही उत्तर वाले विकल्प चुनकर लिखिए –

खण्ड—'अ'

5

परिश्रम उन्नति का द्वार है। मनुष्य परिश्रम के सहारे ही जंगली अवस्था से वर्तमान विकसित अवस्था तक पहुँचा है। उसी के सहारे उसने अन्न, वस्त्र, घर, मकान, भवन बाँध, पुल, सड़कें, बनाई। तकनीक का विकास किया, जिसके सहारे आज यह जगमगाती सभ्यता चल रही है। परिश्रम केवल शरीर की क्रियाओं का ही नाम नहीं है। मन तथा बुद्धि से किया गया कार्य भी परिश्रम कहलाता है। हर श्रम में बुद्धि तथा विवेक का पूरा योग रहता है परिश्रम करने वाला मनुष्य सदा सुखी रहता है। परिश्रमी व्यक्ति का जीवन स्वाभिमान से पूर्ण होता है, वह स्वयं अपने भाग्य का निर्माता होता है। उसमें आत्मविश्वास होता है। जिससे मनुष्य किसी भी संकट को बहादुरी से झेलता है तथा उससे संघर्ष करता है। परिश्रम कामधेनु है चाहिए। जो परिश्रम के वक्त इंकार करता है, वह जीवन में पिछड़ जाता है।

1. वर्तमान विकसित अवस्था तक मनुष्य कैसे पहुँचा ?

- (क) अन्न उपजाकर (ख) धन व बुद्धि के बल पर  
(ग) परिश्रम करके (घ) सुखों को भोग कर

2. मन और बुद्धि द्वारा किया जाने वाला कार्य कहलाता है ?

- (क) चतुरता (ख) विश्राम  
(ग) विवेक (घ) परिश्रम

3. परिश्रमी व्यक्ति के गुण हैं—

- (क) आत्मविश्वासी, स्वाभिमानी, संघर्षी एवं स्वयं का भाग्यनिर्माता  
(ख) स्वाभिमानी, संघर्षी, दयालु एवं चरित्रवान  
(ग) स्वयं का भाग्य—निर्माता, आत्मविश्वासी एवं दयालु  
(घ) चरित्रवान, आत्मविश्वासी, भाग्यवादी, सत्यवादी

परिश्रम को 'कामधेनु' कहने का क्या आशय है ?

- (क) सारी बाधाओं को दूर करना (ख) सारी परिस्थितियों को बदलना  
(ग) सारी इच्छाओं को दबाना (घ) सारी मनोकामनाओं को पूरा करना

कौन जीवन में पीछे रह जाता है ?

- (क) जो धीरे चलता है (ख) जो बिना सोचे तेज चलता है  
(ग) जो परिश्रम के समय इंकार करता है (घ) जो आत्मविश्वास का सहारा नहीं लेता

- 1 निबंध - समय की अमूल्य निधि
- संकेत बिन्दु -

- इसका सदुपयोग
- सफलता की कुंजी
- विवाशी जीवन में विशेष महत्त्व
- दुरुपयोग करने का पछतावा

प्र.5 निबंध - आदर्श विवाशी

संकेत बिन्दु -

- सदा जीवन उच्च विचार
- विज्ञाना एवं आश्चर्यक गुण
- अनुशासन प्रिय
- बहुमुखी जीवन
- जीवन का लक्ष्य साधना

प्र.3 पत्र-लेखन- विद्वृत विभागे के महाप्रबंधक को परीक्षा के दिनों में बिजली न आने पर होने वाली असुविधा के लिए शिकायती पत्र लिखिए।

प्र.4 निम्नलिखित प्रश्नों के उत्तर निर्देशानुसार लिखिए -

- 1 विलोम शब्द लिखिए - कुतूहल
- 2 शुचिसम भिन्नार्थक शब्द लिखिए - (क) बान (ख) बाण
- 3 नीचे लिखे मुहावरे का अर्थ लिखिए - खून का प्यासा -
- 4 उचित समूहवाची शब्द चुनकर रिक्त स्थान भरिए - (संघ, राशि, मंडल)
- 5 सात तारों का समूह साप्तऋषि तारा ..... कहलाता है। नीचे दिए गए वाक्यांश के लिए एक शब्द लिखिए- जिसका कोई अर्थ न हो -
- 6 उचित लौकिकित चुनकर वाक्य पूरा कीजिए- ..... जैसी बातें केवल सज्जन व्यक्ति ही कह सकते हैं। (मन के लड्डू फोड़ना/नेकी कर कुर्र में डाल)

पर्याप्त स्वप्न 7

एका संस्र 8

का. प्र.5 7

नी. प्र.6 1

सा. प्र.7 2

(व. प्र.3 5

छि. प्र.4 1

दा. प्र.5 2

दे. प्र.6 3

न. प्र.7 4

प्र.8 1

प्र.9 3

प्र.10 1

प्र.11 1

वर्णवाच्यी शब्द लिखिए - (कोई भी)

स्वर्ण

एकार्थक शब्द लिखिए -

सम्यता

संस्कृति

2

2

2

प्र.5 काल किसे कहते हैं ? काल के भेद लिखिए ।

2

प्र.6 नीचे लिखी काव्य पंक्तियों में कौन-सा अलंकार है ?

2

- 1 भीपर पात सरिस मन डोला।
- 2 रघुपति राघव राजाराम।

प्र.7 सही शब्द चुनकर रिक्त स्थान भरिए -

2

(कालवाचक, संख्यावाचक, समुच्चयबोधक, क्रियाविशेषण)

1 क्रिया की विशेषता बताने वाले शब्द ..... कहलाते हैं।

2 द्रविण समास में पहला पद ..... होता है।

3 ..... क्रियाविशेषण से क्रिया के होने के समय का बोध होता है।

4 दो शब्दों, वाक्यों या वाक्यांशों को जोड़ने वाले शब्द ..... कहलाते हैं।

1

प्र.8 नीचे दिए गए शब्द में से मूलशब्द और उपसर्ग अलग करके लिखिए -

1

अपकार

प्र.9 नीचे दिए गए शब्द में प्रत्यय जोड़कर नया शब्द बनाइए-

1

कड़वा-

1

प्र.10 समस्तपद का विग्रह कर समास का नाम लिखिए-

1

प्रतिदिन-

1

प्र.11 निर्देशानुसार काल बदलकर वाक्य को पुनः लिखिए -

1

श्वेता चली गई। (सामान्य भविष्यत् काल में)

असुविधा के लिए

5

प्र.12 चिट्ठी भेज दी गई। वाक्य में कौन-सा वाक्य है, सही उत्तर वाले विकल्प को चुनकर लिखिए -

- (1) कर्तृ वाक्य (2) भाववाक्य (3) कर्मवाक्य

प्र.13 'युगाबोधक' विस्मयादिबोधक कौन-सा है ?

- (1) अरे (2) बिरा (3) अवे

प्र.14 'की अपेक्षा' में कौन-सा संबंधबोधक है ?

- (1) विषय सूचक (2) तुलनावाचक (3) कारणवाचक

प्र.15 नीचे लिखे वाक्य में उपयुक्त क्रियाविशेषण भरिए-  
अशिका ..... सोती है। (बहुत/मध्य)

प्र.16 नीचे लिखे वाक्य में उपयुक्त समुच्चयबोधक द्वारा जोड़कर वाक्य पुनः लिखिए -  
में घर से निकला ही था। बारिश होने लगी।

खण्ड-ब

प्र.17 नीचे लिखे पठित गद्यांश को पढ़कर दिए गए प्रश्नों के सही उत्तर वाले विकल्प चुनकर लिखिए -

सरिता के वे दिवस बड़े मजे के थे। हम कभी भूमि को काटते, कभी पेड़ों को खोखला कर उन्हें गिरा देते। बहते-बहते मैं एक दिन एक नगर के पास पहुँची। मैंने देखा कि नदी के तट पर एक ऊँची मीनार में से कुछ काली-काली हवा निकल रही है। मैं उत्सुक हो उसे देखने को क्या बड़ी कि अपने हाथों दुर्भाग्य को न्यौता दिया। ज्योंही मैं उसके पास पहुँची अपने और साधियों के साथ एक मोटे नल में खींच ली गई। कई दिनों तक मैं नल-नल घूमती फिरी। मैं प्रतिक्षण उसमें से निकल भागने की चेष्टा में लगी रहती थी। भाग्य भेरे साथ था। बस, एक दिन रात के समय मैं ऐसे स्थान पर पहुँची। जहाँ नल टूटा हुआ था। मैं तुरत उसमें होकर निकल भागी और पृथ्वी में समा गई। अंदर ही अंदर घूमते-घूमते इस ढेर के पेड़ के पास पहुँची।

बहुविकल्पी प्रश्न-

1 सरिता से बूँद कहाँ पहुँची ?  
(क) एक नगर में (ख) सागर में (ग) पहाड़ों पर (घ) नल में

2 नदी के तट पर क्या थी ?  
(क) बहुमंजिला शमारत (ख) नल (ग) ऊँची मीनार (घ) नगर की बड़ी सड़क

3 बूँद नल में कैसे पहुँची ?  
(ग) ऊँची मीनार (घ) नगर की बड़ी सड़क

अ-

त्य को चुनकर

1

- (क) ऊँची भीनार से निकलती काली-काली हवा के द्वारा,  
(ख) भीनार से निकलती भाप देखत समय मोटेनल द्वारा खींच ली गई  
(ग) व इनल के टूटे स्थान से नल में पहुँची।  
(घ) इनमें से कोई भी नहीं।

1

4 हूँद नल से बाहर कैसे आई ?

- (क) अपने भाइयों के धक्कों द्वारा  
(ख) नल के टूटे भाग से  
(ग) बेर के पेड़ से  
(घ) धरती से निकलकर

1

5 नल से निकल कर बूँद कहाँ गई ?

- (क) पृथ्वी में समा गई  
(ग) बेर के पेड़ में घुस गई  
(घ) सरिता की ओर बढ़ गई  
(ग) दुबारा नल में चली गई

1

प्र.18 नीचे लिखे पढ़ित काव्यांशों को पढ़कर दिए गए प्रश्नों के सही उत्तर वाले विकल्प चुनकर लिखिए—

5

1

- कै वह टूटी — सी छानी हती, कहँ कंवन के अब धाम सुहावत।  
कै पग में पनही न हती, कहँ लै गजराजहु ठाढ़े महावत।।  
भूमि कजोर पै सात कटे, कहँ कोमल सेज पै नीद न आवत।।  
कै जुरतो नहिं कोदो सर्वाँ, प्रभु के परताप ते दाख न भावत।।

1 चुनकर

5

कर उन्हें  
एक ऊँची  
कि अपने  
टे नल में  
की चेष्टा  
महाँ नल  
ने-घूमते

अ-

उपर्युक्त पंक्तियाँ किस पाठ से ली गई हैं पाठ का नाम व रचयिता का (कवि का) नाम लिखिए।

बहुविकल्पी प्रश्न—

1 सुदामा की झोपड़ी में क्या बदलाव आया ?

- (क) झोपड़ी बड़ी हो गई  
(ख) स्वर्ण-महल में बदल गई  
(ग) उसकी दशा देखने योग्य न थी  
(घ) जीर्ण — शीर्ण हो गई

2 सुदामा के जीवन में क्या परिवर्तन आया ?

- (क) उसके सभी मित्र बन गए।  
(ख) उसका सादा जीवन वैभवपूर्ण हो गया।  
(ग) उसे कोई पहचानता था।  
(घ) वह अपने गाँव का मुखिया बन गया।

3 यह सब किसकी कृपा थी ?

- (क) ईश्वर की  
(ख) कृष्ण की  
(ग) उसकी मेहनत से  
(घ) सुदामा की पत्नी के पिता ने सब कुछ उपहार स्वरूप दिया था।

4 कृष्ण ने सुदामा को सब कुछ बिना बताए क्यों दिया ?

- (क) क्योंकि वे स्पष्ट रूप में सुदामा को देकर अपनी भिन्नता को छेदा नहीं करना चाहते थे।  
(ख) जिसी के सामने अपने महल में नहीं देना चाहते थे।  
(ग) सुदामा पर अपना प्रभुत्व जमाना चाहते हैं।  
(घ) अपनी पत्नी से छिपाकर देने में ही भलाई समझते हैं।

प्र.19 नीचे लिखे शब्दों के अर्थ लिखिए -

- (क) डौलस (ख) यकीन (ग) असीम (घ) हुनरमंद (ङ) पुलकानि

प्र.20 कोष्ठक में दिए गए सही शब्दों को चुनकर रिक्त स्थान भरिए -

(हूँद, माखन - रोटी, घास, यावल, सौ)

- (क) लेखक ने टिकट बाबू को ..... का नोट दिया।  
(ख) सुदामा की पत्नी ने कृष्ण के लिए ..... भेजा।  
(ग) लेखक ने पानी की कहानी एक ..... के माध्यम से दर्शायी।  
(घ) दूध की तुलना में श्रीकृष्ण ..... खाना पसंद करते हैं।  
(ङ) कबीर ने ..... की निंदा करने से मना कर दिया।

प्र.21 लघुउत्तरीय प्रश्नों के उत्तर लिखिए -

- (क) दोषों का पर्दाफाश करना कब बुरा रूप ले सकता है ?  
(ख) राज के लिए लहरों ने गीत क्यों गाया था ?  
(ग) हाइड्रोजन और ऑक्सीजन को पानी अपना पूर्वज/पुरखा क्यों कहा ?  
(घ) 'तलवार का महल होता है, स्थान का नहीं' उक्त उदाहरण से कबीर क्या कहना चाहते हैं ? स्पष्ट कीजिए।

प्र.22 दीर्घ उत्तरीय प्रश्नों के उत्तर लिखिए -

- (क) गण्डश्या की टीपी पर दर्वा ने पाँच फुँदने क्यों जड़ दिए ?  
(ख) 'साहकिल आदोलन' से फुड्कोईई महिलाओं के जीवन में कौन-कौन से बदलाव आए ?  
(ग) दारका से खाली हाथ लौटते समय सुदामा मार्ग में क्या-क्या सोचते जा रहे थे ? वह कृष्ण के व्यवहार से क्यों खींच रहे थे ? सुदामा के मन की दुविधा को अपने शब्दों में प्रकट कीजिए।  
(घ) 'कबीर की साखियाँ' पाठ की तीसरी साखी- जिसकी एक पंक्ति है 'मनुवा तो चहुँ दिखी किरै, यह तो सुमिरन नाहै' के द्वारा कबीर क्या कहना चाहते हैं ?

Q1. Answe

Tim

- 1.
- 2.
- 3.
- 4.
- 5.
- 6.

Q2. R

a)

b)

c)

12

d)

Promotion Examination - 2019  
Computer Science

Q1. Answer the following.

(4X10=40)

1. What is the difference between Intranet and Extranet?
2. How are networks classified based on geographical area?
3. What are the advantages of E- Commerce. Give the full form of C2C and B2C.
4. Explain cloud computing, with two advantages and examples.
5. What are the eight official categories of newsgroups?
6. Define the following
  - a) Slide
  - B) Presentation
7. Write the difference between a switch and a hub.
8. What are the ways in which you can start creating your presentation ?
9. What is slide transition? Is it possible to apply different styles to different slides?
10. What are the three ways to run a slideshow? Under which tab will you get this option?

(5X4=20)

Q2. Rearrange, and rewrite the steps in orderly manner .

- a) Insert clip art -
1. Click the Go button . A list of pictures appears.
  2. In the search for box, type a word or phrase to describe the picture you want to insert.
  3. Click on your chosen clip to insert it in the slide.
  4. Click the Clip Art button in the Illustrations group under the insert tab. The Clip Art taskpane will appear.

- b) Add transition effect between slides:
1. Select any slide.
  2. Set the Transition Speed to Medium.
  3. Select On Mouse Click under Advance Slide. Click Apply To All.
  4. Click the Animations tab and select a Transition Scheme that you like from the Transition to this slide group.

- c) Creating a presentation from a Template
1. Click new.
  2. Click the microsoft office button.
  3. Click create.
  4. Click installed template, installed themes, or browse through microsoft office online templates in the new presentation dialog box.
  5. click the template you want.

- d) Steps to Make a duplicate slide.
1. Click the new slide drop down menu arrow in the slides group under the home tab.
  2. Click duplicate selected slides.
  3. Select the slide to duplicate

स्यवदर

12

स्यवदर

8

स्यवदर

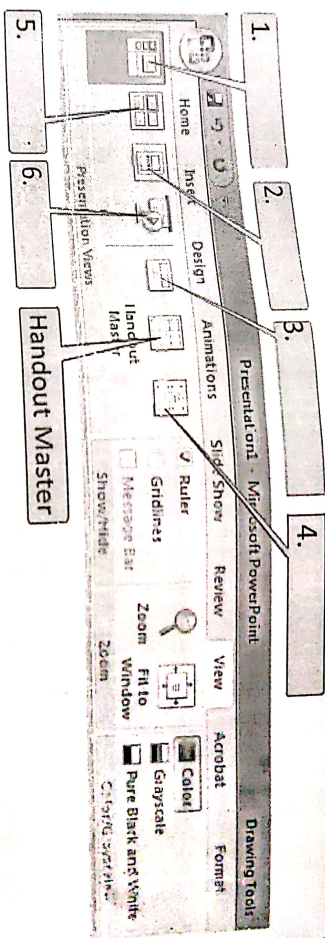


(1x10=10)

Q3 Fill in the blanks and rewrite the complete sentences.

- 1) \_\_\_\_\_ is the most commonly used software for creating presentation.
- 2) \_\_\_\_\_ is the most commonly used presentation software.
- 3) \_\_\_\_\_ feature helps to create self-running presentations.
- 4) \_\_\_\_\_ pattern that remains the same throughout the presentation is called \_\_\_\_\_.
- 5) The \_\_\_\_\_ feature helps to create self-running presentations.
- 6) Individual page of a presentation is called a \_\_\_\_\_.
- 7) The most commonly used network protocol is \_\_\_\_\_.
- 8) In a slide, the sound icon will appear in a slide.
- 9) When you insert a \_\_\_\_\_ and \_\_\_\_\_.
- 10) The popular site for online shopping are \_\_\_\_\_ and \_\_\_\_\_.

Q4.) Following is the different views available in MS powerpoint .Lable the diagram below and explain any one (06 Marks)



Q5.) Give the shortcut keys for the following:

1. Make a duplicate of the current slide \_\_\_\_\_
2. Run a slide show \_\_\_\_\_
3. Save a slide show \_\_\_\_\_
4. To print a slide show \_\_\_\_\_

(4 Marks)